

# Le radar du Haut-Montet

Au Sud du plateau de Caussols, le site de la Direction générale de l'aviation civile renferme un gigantesque ballon de foot monté sur pylônes. C'est un radar utilisé pour observer le trafic aérien.

Au Nord, se trouve l'observatoire de Calern où des observations scientifiques sont réalisées par les astronomes.

L'un d'eux a égaré le code lui permettant l'accès à la salle d'observation.

Avec l'aide de l'inspecteur Rando, retrouve le code permettant à notre astronome étourdi de continuer ses observations.



## Les codes d'accès

S4GXDNN0	DRZNGO4X
4GXWONDR	GNND04RX
NG4X8RNO	74GONDRN
RQONN4GX	KNOR4NXD

Remets en ordre les caractères des cases colorées pour retrouver le code d'accès à la salle d'observation.

Tu disposes du plan ci-dessous. À l'emplacement des points rouge, lis les indications qui te permettront de résoudre l'énigme principale.

À ton retour à la maison, avec l'aide de tes parents, rends-toi vite sur le site [randoland.fr](http://randoland.fr) pour vérifier ta réponse. Si elle est juste tu obtiendras 2 points bonus que tu pourras échanger contre de super cadeaux !

CONSEIL GÉNÉRAL  
ALPES-MARITIMES

CÔTE D'AZUR  
COMITÉ RÉGIONAL DU TOURISME  
RIVIERA CÔTE D'AZUR

Dans le cadre du programme européen Interreg Alcotra  
Projet « Diversification de l'offre touristique transfrontalière »



Pour toutes les activités de cette fiche, reporte dans la grille de bas de page les réponses trouvées en face des nombres correspondants.

### 1 Le monument aux morts

Observe le guerrier avec une main sur l'épée plantée dans le sol. Mais est-ce sa main gauche ou sa main droite? Reporte **droite** ou **gauche** dans la grille de bas de page.

### 2 Le panorama

Bertrand et Capucine contemplent leurs photos prises au cours de la balade. Reporte dans la grille le prénom de l'enfant qui a pris la photo à partir de cet endroit.



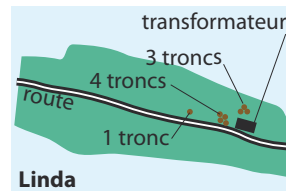
Bertrand



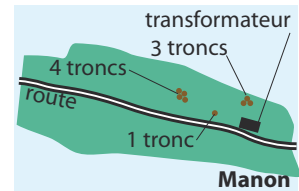
Capucine

### 3 Les arbres

Linda et Manon ont réalisé un plan pour retrouver les sapins aux troncs multiples. Note dans la grille le prénom de l'enfant qui a dessiné le plan le plus approchant.



Linda



Manon

### 4 La borie à deux étages

Place-toi devant la porte de la borie à deux étages. Compte le nombre de grosses pierres visibles ayant servi à la construction de la porte. Loïc, Greg et Dina énoncent chacun une proposition. Note le prénom de l'enfant qui se trompe.

Loïc: Le nombre de pierres est un chiffre pair.

Greg: Ce nombre est supérieur à 15 mais inférieur à 20.

Dina: Ce nombre est un multiple de 5.

### 5 Le panorama

Qui a pris la photo, perché sur un rocher? Reporte son prénom dans la grille.



Anaïs



Lucas

### 6 Le col

Inscris, en lettres, le chiffre des dizaines de l'altitude du col de l'Ècre.

### 7 L'abreuvoir

Retrouve, dans la liste suivante, la forme de la surface de l'abreuvoir:

**carré – rectangle – trapèze**

Reporte la première lettre de ta réponse dans la grille.


### 8 L'église de St-Lambert

Sur la petite route, à l'arrière de l'église, il y a une petite fontaine offerte par A. Aubanel. Note, en chiffres, la différence entre les deux dates figurant sur cette fontaine.

Remets en ordre les caractères inscrits sur les cases bleues pour retrouver le code permettant l'accès à la salle d'observation.

#### Grille réponse

1	▶								
2	▶								
3	▶								
4	▶								
5	▶								
6	▶								
7	▶								
8	▶								



Énigme 0603701M

Code OT c0s7a6

TA RÉPONSE